

Opgave 2 – Wereld: Ontwikkeling van de wereldbevolking

Bij deze opgave horen de bronnen 3 tot en met 6.

Gebruik bron 3.

Het aantal kinderen dat een vrouw gemiddeld in haar leven krijgt, neemt wereldwijd af. Als die trend doorgaat zal de wereldbevolking rond 2100 gaan dalen.

- 1p **5** In welke **twee** werelddelen zal deze daling het sterkst zijn?

Gebruik bron 3.

De dalende bevolkingsomvang in centrumlanden en semi-perifere landen kan leiden tot een demografisch probleem in deze landen.

- 2p **6** Geef twee maatregelen die overheden kunnen nemen om dit demografisch probleem te voorkomen.

Gebruik de bronnen 3 en 4.

De bevolkingsopbouw van Nigeria is kenmerkend voor veel Afrikaanse landen. Ondanks de daling van het gemiddeld aantal kinderen per vrouw in Afrika, blijft de bevolking tot 2100 groeien.

- 2p **7** Geef hiervan twee oorzaken.

Gebruik de bronnen 4 tot en met 6.

Nigeria heeft in 2100 naar verwachting bijna net zoveel inwoners als India en China. Dit enorme bevolkingsaantal brengt juist voor Nigeria grote uitdagingen met zich mee.

- 3p **8** Geef
- eerst **twee** uitdagingen waar Nigeria door het grote bevolkingsaantal in 2100 mee te maken krijgt;
 - vervolgens met de bronnen aan waarom deze bevolkingsgroei juist in Nigeria tot etnische conflicten kan leiden.

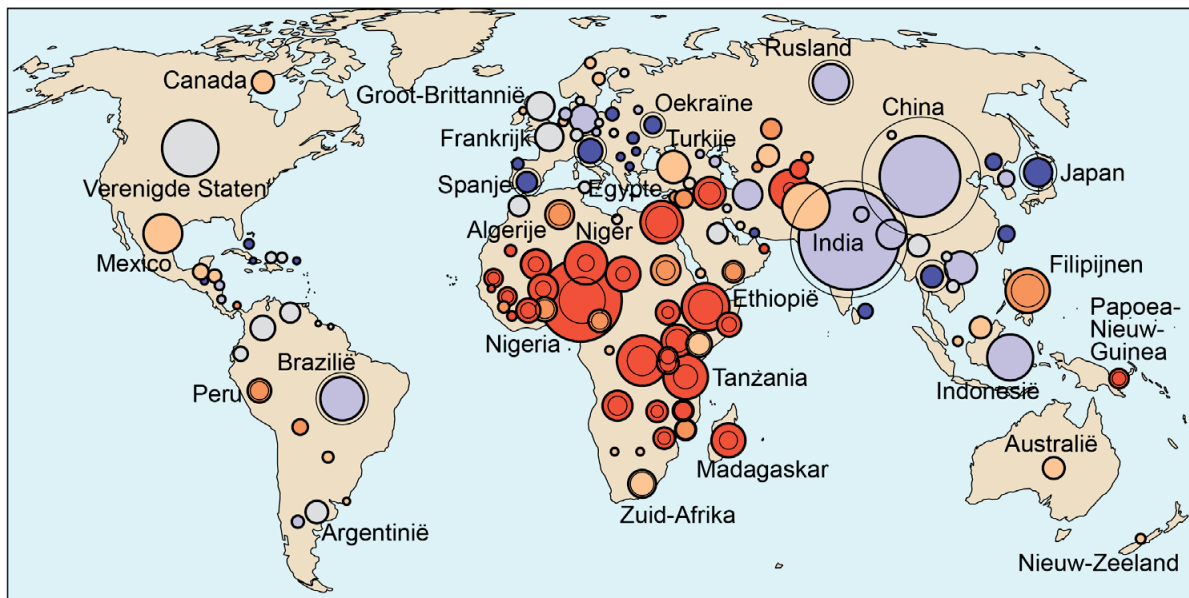
Opgave 2 – Wereld: Ontwikkeling van de wereldbevolking

bron 3

Ontwikkeling van de bevolking per werelddeel tot 2100


Wereldwijd komen er per minuut 143 mensen bij, dat is ruim twee per seconde. Inmiddels wonen er acht miljard mensen op de wereld, meer dan twee keer zoveel als vijftig jaar geleden. Maar het einde van de bevolkingsgroei is in zicht. Nog deze eeuw zal de wereldbevolking naar verwachting gaan krimpen.

De verwachte bevolkingsomvang in 2100 ten opzichte van 2018

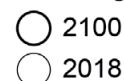


Legenda:


verschil in 2100 ten opzichte van 2018 (in %)



bevolkingsomvang



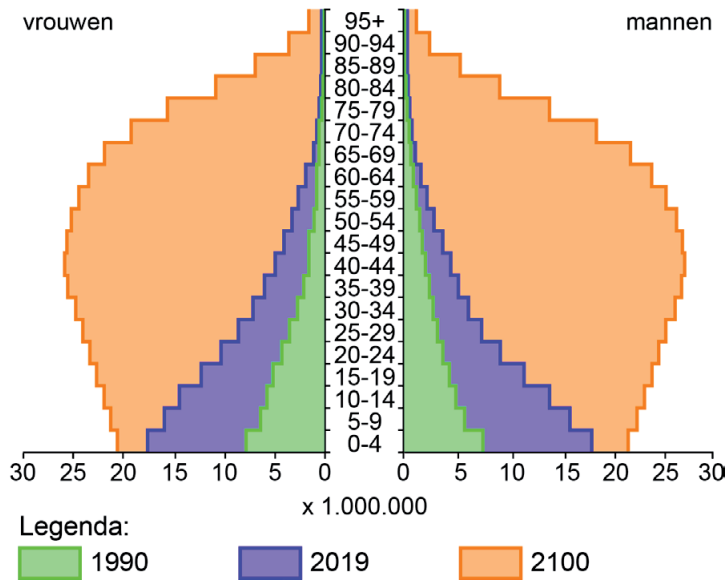
aantal inwoners in miljoenen



bron 4

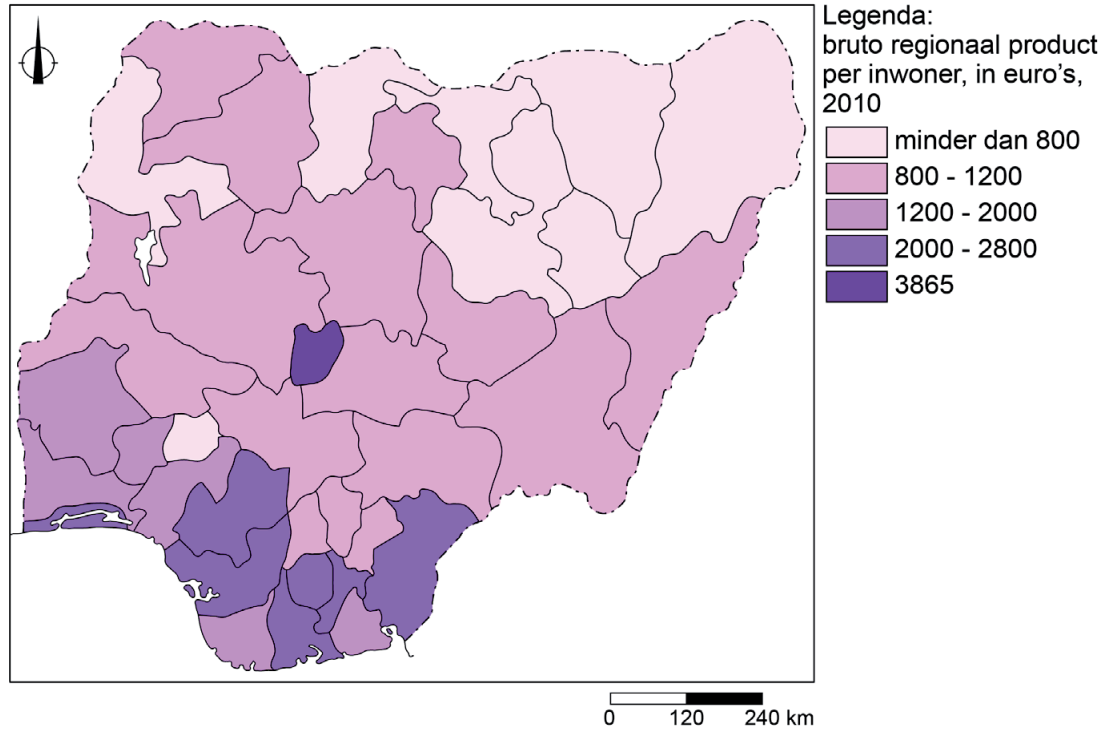
Bevolkingsdiagram Nigeria (1990, 2019 en 2100)

In 1990 telde het Afrikaanse land Nigeria 95 miljoen inwoners. In 2019 telde het land 200 miljoen inwoners en dit aantal stijgt naar verwachting tot meer dan 730 miljoen inwoners in 2100.



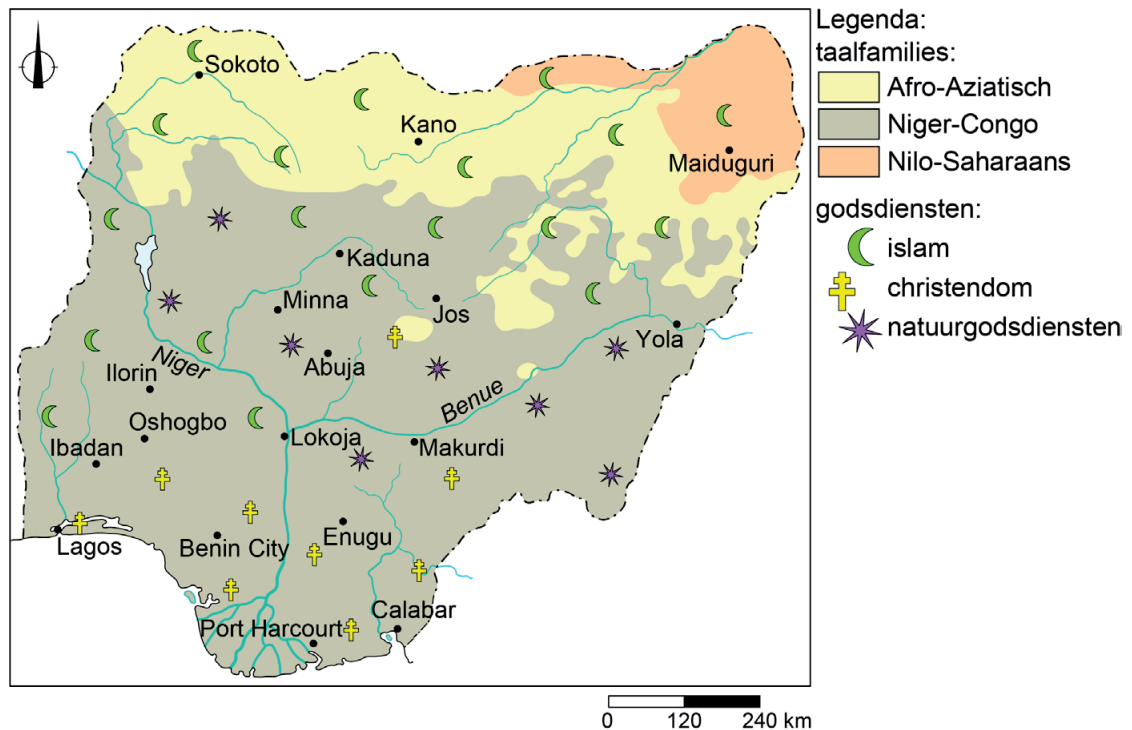
bron 5

Bruto regionaal product, Nigeria



bron 6

Talen en godsdiensten, Nigeria



Bronvermelding

Een opsomming van de in dit examen gebruikte bronnen, zoals teksten en afbeeldingen, is te vinden in het bij dit examen behorende correctievoorschrift.